

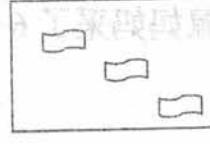




# 2019—2020 学年度第一学期期中测试卷

## 一年级 数学

题号	一	二	三	四	五	六	七	总分
得分								

### 一、填一填（每空1分，共30分）

#### 1、看图写数。



2、和8相邻的数是（ ）和（ ）。

3、按规律填数。

（ ）、9、8、（ ）、（ ）、（ ）。

2、（ ）、6、（ ）、（ ）。

4、9比5多（ ），3比10少（ ）。

5、最大的一位数是（ ）。

6、在○里填上“>”“<”或“=”。

$9 \bigcirc 5$

$7 \bigcirc 3$

$10 \bigcirc 8$

$6-5 \bigcirc 2$

$2+4 \bigcirc 7$

$9-6 \bigcirc 4$

$5+3 \bigcirc 6-3$

$4+4 \bigcirc 8$

7、在 7、10、1、5、9、2、6、4 中最大数是( ), 最小数是( )。

## 二、比一比 (每空 1 分, 共 8 分)

1、大的画“√”, 小的画“○”。



( )

( )


2、高的画“√”, 矮的画“○”。



( )

( )

3、长的画“√”, 短的画“○”。



( )



( )

4、最重的画“√”, 最轻的画“○”。



( )



( )



( )

### 三、算一算（每空1分，共20分）

$6+4=(\quad) \quad 8-6=(\quad) \quad 3+6=(\quad) \quad 10-7=(\quad)$

$4+3=(\quad) \quad 2+8=(\quad) \quad 8-8=(\quad) \quad 9-6=(\quad)$

$2+4=(\quad) \quad 4+4=(\quad) \quad 0+9=(\quad) \quad 10-5=(\quad)$

$8-3=(\quad) \quad 2+5=(\quad) \quad 5-5=(\quad) \quad 4+5=(\quad)$

$8-3+4=(\quad) \quad 7-5+8=(\quad) \quad 10-7+6=(\quad) \quad 7+0+2=(\quad)$

### 四、画一画（每题2分，共4分）


1.画○比☆多4个。

☆☆☆☆

2.画△和●少4个。

●●●●●●●●●●

### 五、圈一圈，将不同类的圈出来（每题2分，共6分）



六、看图列式计算（每题4分，共16分）



?本

□

○

□

=

□

9个

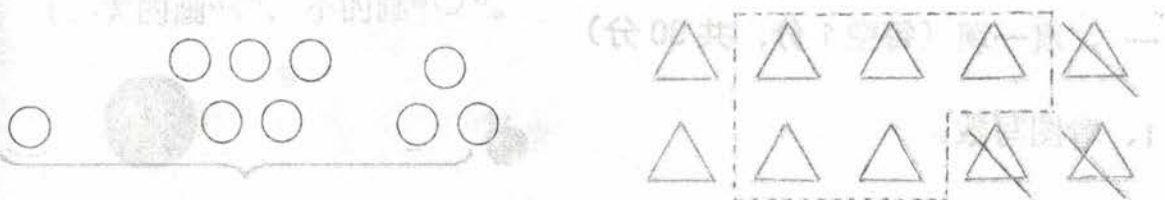
□

○

□

=

□



?个

□

○

□

○

□

=

□

?个

□

○

□

○

□

=

□

七、解决问题（第1,2题各5分，第3题6分，共16分）

1、松鼠妈妈采了6个松果，小松鼠采了3个松果，一共采了多少个松果？

□

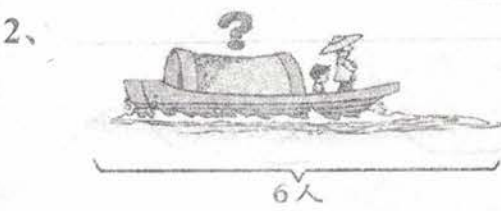
○

□

=

□

(个)



□

○

□

=

□

(人)

3、三路公交车上有10人，广场西口下车5人，又上车3人，现在车上有多少人？

□

○

□

○

□

=

□

(人)